




ТАКМИЧЕЊЕ УЧЕНИКА ОСНОВНИХ ШКОЛА РЕПУБЛИКЕ СРБИЈЕ
"ШТА ЗНАШ О САОБРАЋАЈУ"

ДН ОС

ШК-Ц-43



1. Пешаци у ситуацији на слици:
- а) имају првенство пролаза у односу на возача бицикла
 - б) немају првенство пролаза у односу на возача бицикла **4**
 - ц) дужни су да се зауставе и пропусте возача бицикла .

2. У ситуацији на истој слици, возач бицикла пре скретања удесно:
- а) не мора одручити десну руку
 - б) мора одручити десну руку и упозорити учеснике у саобраћају о својој намери **3**
 - ц) може употребити само звучни знак да упозори пешаке о својој намери



3. Пешак се креће у ситуацији на слици путем на коме је његово кретање :
- а) дозвољено
 - б) забрањено **4**
 - ц) дозвољено, ако се креће левом страном коловоза, у сусрет возилима

4. Путем којим се креће пешак у ситуацији на истој слици, кретање мопеда, трицикла и четвороцикла је:
- а) дозвољено
 - б) забрањено **4**
 - ц) дозвољено, ако се крећу што ближе десној ивици коловоза



5. Првенство пролаза у ситуацији на слици има:
- а) возач бицикла који скреће улево
 - б) возач бицикла који задржава правац кретања **4**
 - ц) возач бицикла који се налази ближе раскрсници

6. У ситуацији на истој слици, првенство пролаза је регулисано:
- а) саобраћајним знаковима
 - б) правилима саобраћаја **3**
 - ц) светлосним саобраћајним знаковима


7. Изузетно у пешачкој зони, зони успореног саобраћаја, зони "30", зони школе и некатегорисаном путу, бициклом може управљати и дете са навршених:
- а) пет година
 - б) седам година **3**
 - ц) девет година



www.ams.co.rs
 Кориснички центар: 0800 009 009
 Централа: 011 30 84 900

8. Бицикличка стаза је пут намењен искључиво за кретање:

- а) бицикала и мопеда 2
- б) бицикала
- ц) бицикала, мопеда и лаких трицикала



9. У ситуацији на слици пешаци који прелазе преко коловоза на обележеном пешачком прелазу:

- а) имају првенство пролаза у односу на сва возила у раскрсници 3
- б) дужни су да пропусте сва возила у раскрсници
- ц) дужни су да пропусте само возила под пратњом

10. У ситуацији на истој слици, жути путнички аутомобил:

- а) има првенство пролаза у односу на возила под пратњом и пешаке 3
- б) мора да пропусти само возила под пратњом
- ц) мора да пропусти и возила под пратњом и пешаке ...



11. Возач бицикла врши скретање улево у ситуацији на слици:

- а) прописно 3
- б) непрописно
- ц) из саобраћајне траке којом је забрањено кретање возила

12. Бициклом на јавним путевима самостално у саобраћају не сме да управља дете млађе од:

- а) 7 година 3
- б) 9 година
- ц) 12 година



13. Возач бицикла у ситуацији на слици креће се:

- а) непрописно 3
- б) прописно
- ц) путем на коме је његово кретање забрањено

14. У ситуацији на истој слици возач путничког аутомобила претиче теретно возило:

- а) прописно 3
- б) прописно, јер му је претицање дозвољено ознакама на коловозу
- ц) непрописно, јер тиме угрожава безбедност саобраћаја и омета саобраћај из супротног смера ...




15. Црвени путнички аутомобил претиче возило у ситуацији на слици саобраћајном траком којом му је кретање:

- а) дозвољено 3
- б) забрањено
- ц) дозвољено само ако му не долазе возила из супротног смера

16. Брзина кретања возила на путу у ситуацији на слици је ограничена на:

- а) 60 km/h 2
- б) 80 km/h
- ц) 100 km/h



17. У ситуацији на слици право проласка преко раскрснице има:

- a) црвени путнички аутомобил
- b) зелени путнички аутомобил
- ц) ни једно ни друго возило

3

18. У ситуацији на истој слици возачи су дужни да поступе по:

- a) саобраћајном знаку
- b) светлосном саобраћајном знаку (семафору)
- ц) знацима које им даје полицијски службеник

3



19. Возач трамваја у ситуацији на слици:

- a) има првенство пролаза у односу и на путнички аутомобил и на бицикл
- b) дужан је да пропусти само путнички аутомобил
- ц) дужан је да пропусти и путнички аутомобил и бицикл

3

20. Возач бицикла у ситуацији на истој слици:

- a) има првенство пролаза у односу и на путнички аутомобил и на трамвај
- b) дужан је да пропусти само путнички аутомобил
- ц) дужан је да пропусти и путнички аутомобил и трамвај

3

21. Водичи и гоничи животиња, када се крећу по коловозу ван насеља:

- a) не морају да носе светлоодбојни прслук
- b) морају да носе светлоодбојни прслук
- ц) морају да носе само црвену мараму

3



22. Десна рука полицијског службеника подигнута вертикално са дланом отворене шаке усмереним према напред - значи:

- a) слободан пролаз за сва возила
- b) слободан пролаз само за возила која му долазе из правца према којима је окренут длан и прса полицијског службеника
- ц) обавезно заустављање за све возаче према којима је окренут длан и прса полицијског службеника

4



23. Пешак је ступио на пешачки прелаз и започео прелаз преко коловоза у ситуацији на слици, и том приликом:

- a) има првенство пролаза у односу на зелени путнички аутомобил
- b) нема првенствено пролаза у односу на зелени путнички аутомобил
- ц) дужан је да се заустави и пропусти зелени путнички аутомобил

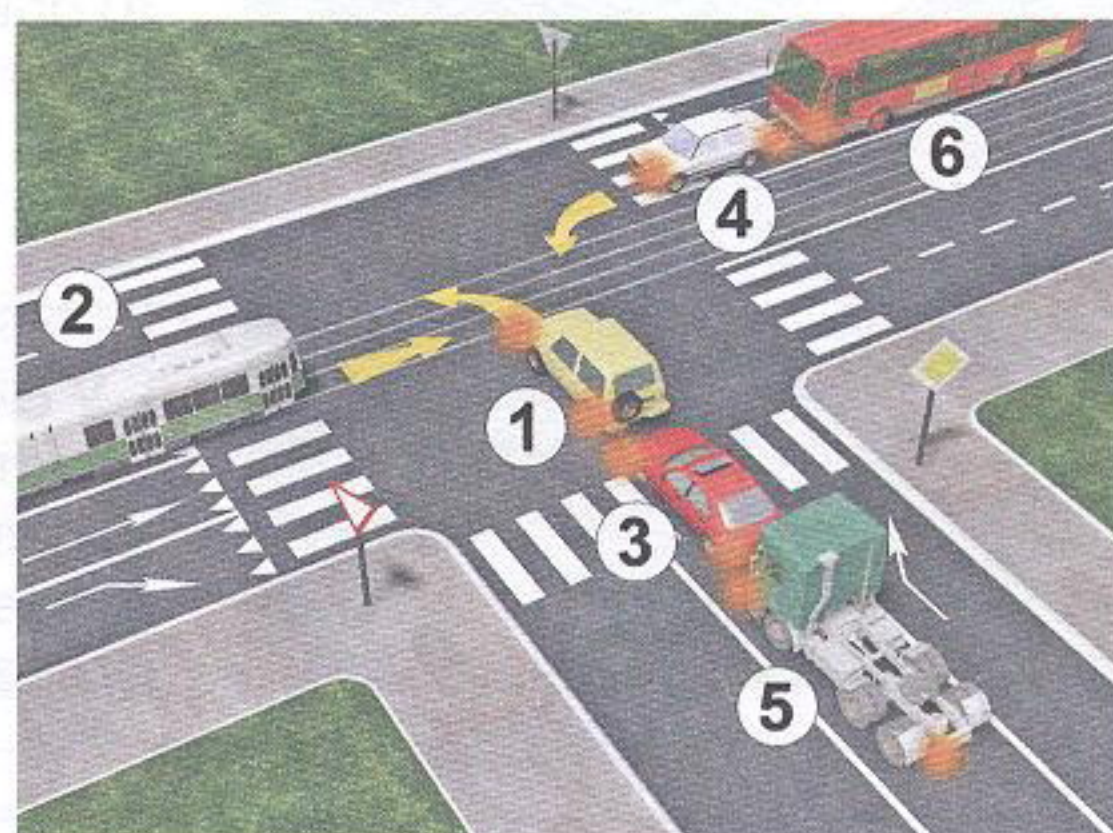
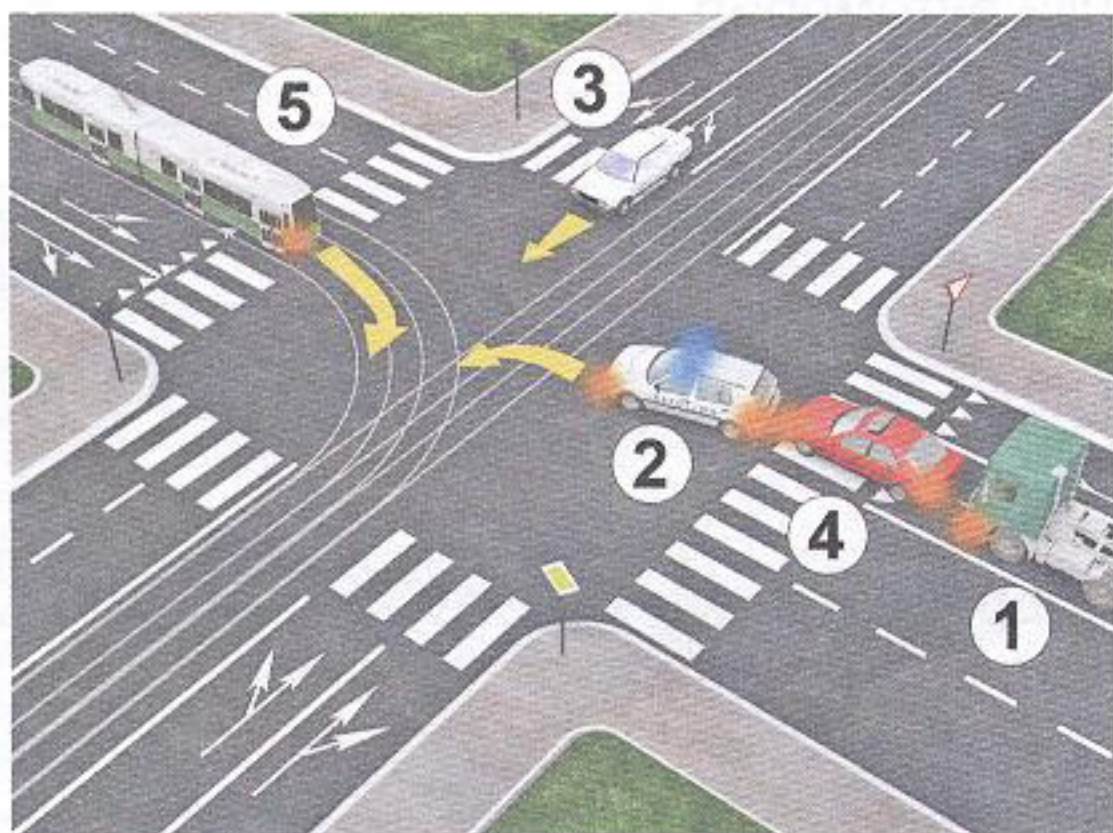
3

24. Приликом преласка преко коловоза, у ситуацији на истој слици пешак:

- a) сме да употребљава мобилни телефон
- b) не сме да употребљава мобилни телефон, али сме да користи слушалице на ушима
- ц) не сме да употребљава мобилни телефон нити да користи слушалице на ушима

3

25-26. У поља испод слике упиши бројеве који се налазе поред возила по редоследу проласка кроз раскрсницу:



4

4


27. У поља испод сваког саобраћајног знака уписати редни број који је испред описа њиховог значења.



2



1



1



2



2



2



2



2



2



1

1. Забрана саобраћаја за пешаке
2. Суужење пута с леве стране
3. Спојене стазе за бициклисте и пешаке
4. Обилажење са обе стране
5. Пешачка стаза
6. Ограничење брзине

7. Зона успореног саобраћаја
8. Дозвољени смерови
9. Скретање саобраћаја из једне коловозне траке у другу
10. Најмање дозвољена брзина
11. Обавезан смер
12. Деца на путу

НАШИ ПРИЈАТЕЉИ!

(Стартни број, име и презиме)

(назив-разред/школа/екипа)

100 - Негативних Поена = УКУПНО Поена



Република Србија
МИНИСТАРСТВО ПРОСВЕТЕ И НАУКЕ



Република Србија
МИНИСТАРСТВО УНУТРАШЊИХ ПОСЛОВА



AMC
ОСИГУРАЊЕ



CIP - Каталогизација
у публикацији
Народна библиотека
Србије, Београд

ISBN: 978-86-85337-92-5
COBISS.SR-ID 128269324